

BLOCO DE ATIVIDADES DE GEOGRAFIA

ENSINO FUNDAMENTAL - 5º ANO



MAPAS, PAISAGENS, REGIÕES E MUITA DESCOBERTA!

ALUNO: _____ TURMA: _____

➤ GEOGRAFIA

Município

O município é formado pela área urbana, também chamada sede do município ou cidade, e pela área rural.

A área urbana possui uma parte principal, chamada centro, e vários bairros.

Geralmente, a área rural rodeia a área urbana e o centro da cidade tem bairros à sua volta.

Município é uma parte do estado administrada por um prefeito. As leis municipais são feitas pela Câmara de Vereadores.

O Brasil tem 5.564 municípios. A maioria está concentrada na região Nordeste. São 1.793 municípios espalhados pelos estados de Alagoas, Bahia, Ceará, Maranhão, Paraíba, Pernambuco, Piauí, Rio Grande do Norte e Sergipe.

A sociedade do município

Os habitantes de um município formam uma comunidade.

As pessoas dos municípios geralmente têm coisas em comum, como os hábitos locais de alimentação, o modo de falar, as brincadeiras etc. Nos municípios pequenos, elas frequentam as mesmas ruas, praças, cinemas, escolas etc. Mas essas pessoas têm diferenças entre si.


Essa nossa individualidade é o que nos dá uma identidade própria para conquistarmos os objetivos comuns e terem melhores condições de vida.

1. Qual o nome do município onde você mora? _____

2. Este município pertence a qual Estado? _____

3. Marque em qual região o município está situado

- (A) Norte
- (B) Nordeste
- (C) Centro-Oeste
- (D) Sudeste
- (E) Sul



4. Qual o nome do(a) atual prefeito(a)? _____

5. Quantas pessoas habitam neste município? _____

6. Existe algum rio neste município? Quais?

7. Faz limite com quais municípios?

8. Responda quem exerce as funções abaixo:

PREFEITO – VEREADORES - SECRETÁRIOS

a) Administra e governa o município: _____

b) Auxiliam o prefeito, executando trabalhos em áreas específicas: _____

c) Elaboram as leis do município: _____

d) Fiscalizam o prefeito: _____

➤ GEOGRAFIA

POPULAÇÃO BRASILEIRA: URBANA E RURAL

De acordo com dados da Pesquisa Nacional por Amostra de Domicílios (PNAD) 2015 a maior parte da população brasileira, 84,72%, vive em áreas urbanas. Já 15,28% dos brasileiros vivem em áreas rurais.

A Grande Região com maior percentual de população urbana é o Sudeste, com 93,14% das pessoas vivendo em áreas urbanas. A Região Nordeste é a que conta com o maior percentual de habitantes vivendo em áreas rurais, 26,88%.



Nas décadas de 1970 e 1980 o Brasil sofreu um intenso processo de êxodo rural. A mecanização da produção agrícola expulsou trabalhadores do campo que se deslocaram para as cidades em busca de oportunidades de trabalho. Hoje, o deslocamento do campo para a cidade continua, porém, em percentuais menores.

O intenso processo de urbanização no Brasil gerou o fenômeno da metropolização (ocupação urbana que ultrapassa os limites das cidades) e, conseqüentemente, o desenvolvimento de grandes centros metropolitanos como São Paulo, Rio de Janeiro, Porto Alegre, Salvador, Goiânia, Manaus, entre outros.

<https://educa.ibge.gov.br/jovens/conheca-o-brasil/populacao/18313-populacao-rural-e-urbana.html>

1. Pesquise e registre suas descobertas, os seguintes temas:

a) Êxodo rural: _____

b) Metr pole: _____

2. Por que as pessoas praticam o  xodo rural?

3. Analise as afirmativas a seguir e, de acordo com o texto, classifique-as em (V) se forem verdadeiras ou (F) se forem falsas.

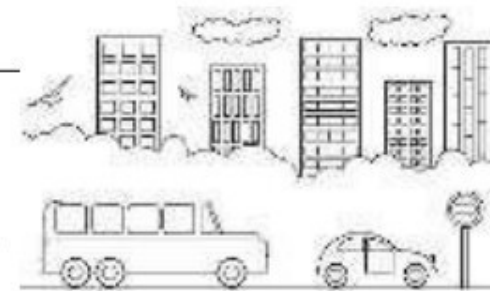
- a) () A popula o brasileira que vive na zona rural   maior que a que vive na zona urbana.
- b) () Aproximadamente 93% da popula o da Regi o Sudeste vive em  reas urbanas.
- c) () A Regi o Nordeste   regi o mais populosa do Brasil e , apenas 26,88% da sua popula o vivem em  reas rurais.
- d) () 20% dos brasileiros vivem em fazendas ou s tios.

4. Veja, um quadrinho da hist ria de Chico Bento e seu primo. Em que espa o se passa essa hist ria:  rea urbana ou rural? Justifique sua resposta.



➤ GEOGRAFIA

Leia o texto a seguir.



AS FUNÇÕES DAS CIDADES

Muitas das cidades que se formaram com base no desenvolvimento de atividades econômicas em diferentes momentos, ainda hoje, mantêm as funções que motivaram sua fundação.

Além das formas urbanas, as cidades possuem funções diferentes que são definidas de acordo com sua localização e com as atividades econômicas desenvolvidas, entre outros fatores.

A cidade de Santos, por exemplo, ainda tem suas principais atividades econômicas dependentes do papel desempenhado pelo porto. Atualmente, o porto de Santos é o que apresenta maior diversidade de importações e exportações do Brasil, movimentando produtos das indústrias mecânica, química, de alimentos e bebidas, entre outras.

Também são importantes cidades portuárias brasileiras: Itajaí (SC), Paranaguá (PR) e Vitória (ES).

As cidades podem ser divididas entre vários tipos. Entre eles estão as naturais, que surgem sem planejamento, e as planejadas, que passaram pela elaboração de um projeto antes de serem construídas.

Como exemplos de cidades naturais, podemos citar o Rio de Janeiro e São Paulo.

A cidade planejada mais famosa do Brasil é a capital, Brasília. Mas Belo Horizonte, Goiânia e Aracaju também são exemplos de cidades brasileiras planejadas.

Há ainda a cidade industrial, que tem uma população e economia voltada a indústrias em determinadas regiões, que giram o fluxo de capital da cidade. Existem cidades que também se destacam pelas atividades comerciais. No Brasil, o maior exemplo é Manaus e seu polo industrial, localizado em uma zona franca.

Neste sentido ainda temos as cidades portuárias, que tem uma economia baseada no comércio, importação e exportação de produtos. Existem ainda cidades históricas, religiosas e turísticas.

1- O que é uma cidade natural ou espontânea?

2- O que é uma cidade planejada?

ATENÇÃO: as cidades naturais também são chamadas de espontâneas.

3- Qual é capital do estado de Minas Gerais?

4- A capital de MG é uma cidade planejada?

5- Numere os tipos de cidades com suas respectivas características.

(1) Cidades planejadas

(2) Cidades espontâneas

A- () Surgiram do crescimento de povoados aleatoriamente.

B- () Os locais de moradia e as áreas comerciais e de serviços são, geralmente, estabelecidos previamente.

C- () São projetadas por arquitetos, engenheiros, geógrafos e agentes públicos antes de serem construídas.

D- () Desenvolveram-se de maneira desordenada à medida que as pessoas construíram suas casas, lojas, fábricas, ruas, parques etc.

6- Como será que surgiu nossa cidade? Será que nossa cidade é planejada? Faça uma pesquisa com pessoas mais velhas (por telefone ou whatsapp) e descubra como tudo começou. Registre suas descobertas e tire suas conclusões sobre ser planejada ou espontânea.

➤ GEOGRAFIA

BRASÍLIA: UMA CIDADE PLANEJADA

Ao contrário da maioria das cidades, que crescem de forma espontânea, existem cidades que foram planejadas para cumprir determinadas funções e para que as pessoas tivessem melhor qualidade de vida.


Brasília foi planejada, mas atualmente no seu entorno, devido à urbanização acelerada, é possível observar importantes mudanças em sua área. No Distrito Federal há várias Regiões Administrativas, como Águas Claras, Guará, Cruzeiro, que são áreas muito urbanizadas.

Leia o trecho desta notícia.

Você, por exemplo, poderá imaginar que ela foi construída em apenas quatro anos? [...]

Ou que Brasília foi feita para ser uma cidade diferente de qualquer outra? [...] Cidade planejada, que nasceu primeiro na imaginação e nas pranchetas dos arquitetos, Brasília foi erguida para substituir o Rio de Janeiro como sede do poder brasileiro. [...] Lúcio Costa pensou a capital com o formato de um avião. Entre outras características a cidade seria cortada por duas vias expressas principais e dividida em setores dedicados a atividades específicas (setor hoteleiro, bancário, comercial etc). [...] a principal área residencial seria organizada em grandes quarteirões (as superquadras) [...]

FIGUEIRA. Mara. Parabéns, Brasília Ciência Hoje das Crianças. Disponíveis em: <http://chc.org.br/parabéns.brasília/>. Acesso em: Jan.2018



- Prédio do Congresso Nacional em construção. Brasília, no Distrito Federal 1960



- Prédio do Congresso Nacional em construção. Brasília, no Distrito Federal 2015

1- De acordo com o trecho dessa notícia responda:

a) Como surge uma cidade planejada? _____

b) A cidade de Brasília foi planejada e construída para cumprir qual função? _____

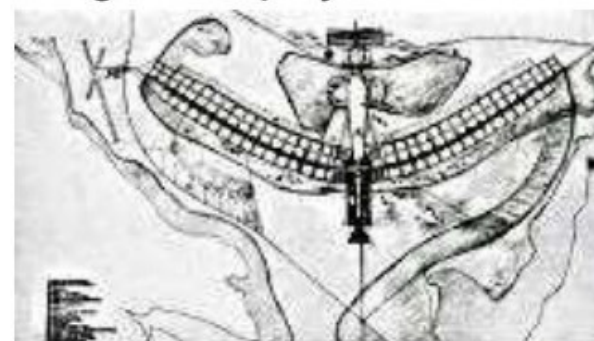
2- Então podemos afirmar que a principal função de Brasília é:

() comercial () industrial () político-administrativa () turística

3- Brasília foi fundada em 1960, mas a construção começou em 1956 e seguiu um projeto: O PLANO PILOTO. Observe um desenho desse projeto.

a) Na sua opinião, o Plano Piloto lembra o formato de que? _____

b) Antes de 1960, qual cidade era a capital do Brasil? _____



Plano piloto de Brasília, de Lúcio Costa. 1957

4- Pesquise:


a) Quem era presidente do Brasil quando Brasília foi construída? _____

b) Quem foi o brasileiro que projetou Brasília? _____

5- Veja a imagem a seguir e assinale a alternativa verdadeira, justificando sua resposta.

(A) A Terra Prometida é Brasília, porque...

(B) A Terra Prometida não é Brasília, porque...



➤ GEOGRAFIA

Origem das energias:

Tipos de energia:

- **Fósseis:** que utiliza o petróleo, carvão e o gás.
- **Solar:** gerada a partir do sol.
- **Hidrelétrica:** é a energia mais usada no Brasil. Trata-se do aproveitamento da água dos rios.
- **Biomassa:** matéria orgânica não fóssil de origem animal e vegetal.

1. Quais tipos de energia existe?

2. O que é utilizado para gerar as energias abaixo:

- a) Biomassa: _____
- b) Hidrelétrica: _____
- c) Fósseis: _____
- d) Solar: _____

3. Qual a energia mais usada no nosso país?

4. Veja as imagens de tipos de energia e escreva qual seu nome e o que utiliza para gerar energia:

OS DIFERENTES TIPOS DE ENERGIA, TEM CARACTERÍSTICAS DISTINTAS.

As **energias renováveis** são energias resultantes de recursos **renováveis**, ou seja, são inesgotáveis.

Considera-se *energia limpa* toda aquela eletricidade gerada através de fontes renováveis e sem a emissão de poluentes.

Energia sustentável é toda a energia elétrica obtida através de fontes renováveis e gerada sem grandes impactos ao meio ambiente.

As **alternativas** são aquelas que substituem as energias convencionais

5. Dê exemplos de energia:

- a) Renovável: _____
- b) Limpa: _____
- c) Sustentável: _____
- d) Alternativa: _____

➤ GEOGRAFIA

MUDANÇA DOS ESTILOS DE VIDA:

Assim como tudo na nossa sociedade, o estilo de vida da população também sofreu transformações em consequência das transformações que ocorreram com o passar do tempo.

As pessoas têm estilos de vida diferentes, de acordo com seus costumes, tradições e são pertencentes a diferentes grupos com finalidades distintas. Mesmo convivendo em um mesmo grupo, as pessoas possuem características diferentes, devendo respeitar a diversidade.

1. O que ocorre com o estilo de vida da população com o passar do tempo?

2. O modo de vida se transformou com o tempo. A tecnologia também é responsável por essas transformações. Faça a relação entre o modo de trabalho das 2 imagens:



3. Leia e responda.

As sociedades africanas tinham em suas atividades econômicas uma das formas de sobrevivência, de acordo com o ambiente em que viviam, e de toda uma tradição. Havia muitos povos nômades, que precisavam se deslocar periodicamente, e havia povos sedentários, que fundando seus territórios, chegaram a constituir grandes reinos (conjunto de aldeias), desenvolvendo atividades econômicas produtivas. Em cada aldeia existia um chefe, este era escolhido entre os mais velhos. Os africanos acreditavam que os espíritos da natureza, os deuses e seus antepassados estavam presentes no seu dia a dia e eram responsáveis por tudo o que acontecia na tribo ou aldeia.

4. De acordo com o texto, é correto afirmar que o conjunto de aldeias chama-se:

- a) moradias
- b) ocas
- c) reinos
- d) senzalas

5. O texto fala sobre povos que se deslocam periodicamente, estes povos são os:

- a) Nômades
- b) Sedentários
- c) Grafiteiros
- d) Mulçumanos

6. Os povos africanos acreditavam que alguns aspectos estavam presentes no seu dia a dia. Que aspectos são esses:

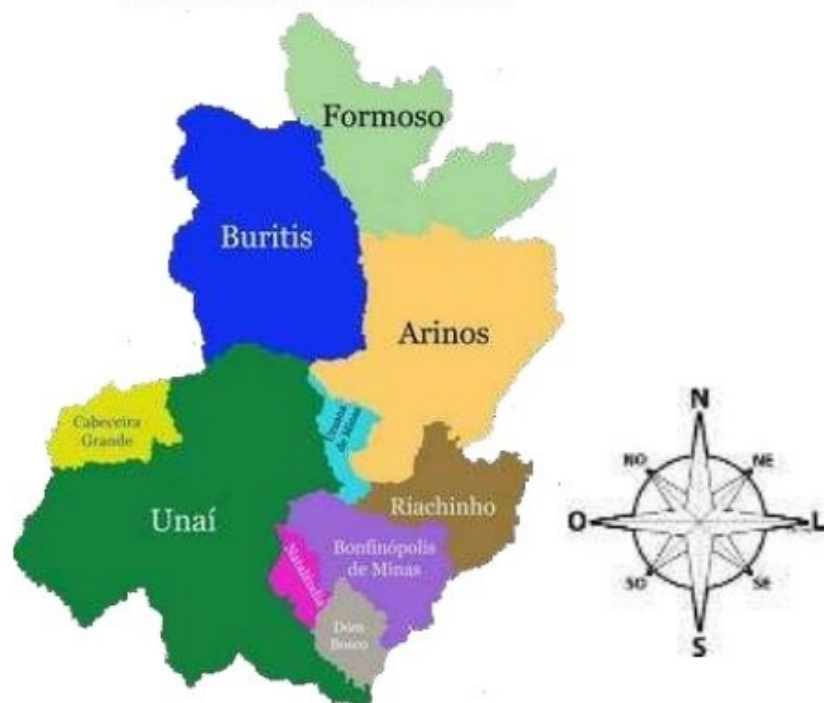
- a) Agricultura
- b) Nômades e sedentários
- c) Espíritos, deuses e antepassados
- d) Arquitetura



➤ GEOGRAFIA

Observe o mapa abaixo:

MAPA 1
Noroeste de Minas



MAPA 2
Minas Gerais



1. Escreva (C), para as afirmativas corretas e (I) para as incorretas, tendo Belo Horizonte como referência e observando a rosa dos ventos.
 - () O município de Bonfinópolis de Minas está a leste de Unai.
 - () O município de Arinos está na direção Oeste.
 - () O município de Formoso está na direção Sul.
 - () Cabeceira Grande, Natalândia e Buritis fazem divisa com Unai.
2. Complete as lacunas.
 - a) O nome do município onde você mora: _____
 - b) Um município que faz limite com o município onde você mora: _____
3. Marque a opção correta, observando a rosa dos ventos do mapa acima:
 - () O município de Unai está localizado Norte de Minas.
 - () O município de Unai está localizado Noroeste de Minas.
 - () O município de Unai está localizado Sul de Minas.

4. Analise a charge:



- a) O que você conclui?

- b) Na sua opinião, o que pode ser feito para mudar esta situação?



Mundo da **GEOGRAFIA**

<https://mundodageografia.com.br>

<https://instagram.com/mundodageografia.com.br>