



# Sugestões de avaliação

Geografia  
8º ano – Unidade 1



## Unidade 1

Nome: \_\_\_\_\_ Data: \_\_\_\_\_

1. Utilize as palavras e expressões a seguir e elabore um pequeno texto sobre o período da Guerra Fria.

Segunda Guerra Mundial	disputa	Guerra Fria
capitalista	superpotências	Estados Unidos
União Soviética	blocos	socialista
		liderança mundial
		mundo

---

---

---

---

---

2. Relacione as fases do capitalismo às características apresentadas:

- (A) Capitalismo comercial  
(B) Capitalismo industrial  
(C) Capitalismo financeiro
- ( ) Fase marcada pela expansão marítima com as Grandes Navegações iniciadas no século XV.
- ( ) A acumulação de capital e as crescentes exigências do mercado consumidor levaram os donos de oficinas manufatureiras a introduzir inovações na forma de produzir mercadorias.
- ( ) O comércio de mercadorias e a exploração de colônias entre os séculos XV e XVIII possibilitaram a acumulação de capital pela burguesia.
- ( ) É a fase atual, caracterizada pela integração entre capital industrial e capital bancário. As indústrias incorporam ou criam bancos, ou os bancos absorvem indústrias.
- ( ) Como consequência da industrialização, ocorreu um grande aumento da produção de mercadorias, o que multiplicou os lucros e elevou a concentração do capital.
- ( ) A bolsa de valor é um dos grandes símbolos deste tipo de capitalismo, representando um termômetro da economia mundial.

3. Descreva as características dos itens abaixo em cada um dos sistemas.

	Sistema capitalista	Sistemas socialista
<b>Emprego</b>	<hr/> <hr/> <hr/> <hr/> <hr/> <hr/> <hr/> <hr/> <hr/> <hr/> <hr/> <hr/> <hr/> <hr/> <hr/>	<hr/> <hr/> <hr/> <hr/> <hr/> <hr/> <hr/> <hr/> <hr/> <hr/> <hr/> <hr/> <hr/> <hr/> <hr/>
<b>Propriedade dos meios de produção</b>	<hr/> <hr/> <hr/> <hr/> <hr/>	<hr/> <hr/> <hr/> <hr/> <hr/>

CÓPIA AUTORIZADA.

4. Após o fim da Segunda Guerra Mundial e o início da Guerra Fria, estabeleceu-se uma ordem mundial que era chamada de bipolar.

a) Por que a ordem mundial recebeu essa denominação?

---

---

---

b) Como estavam distribuídos os dois polos de poder?

---

---

---

---

---

c) Cite consequências dessa bipolaridade.

---

---

---

d) Quando a bipolaridade se encerrou?

5. Marque **V** nas alternativas verdadeiras e **F** nas falsas. Em seguida, corrija as frases incorretas.

- a) A população dos países desenvolvidos concentra cerca de 86% do PIB mundial. ( )
- b) Seria muito bom para o planeta se todas as pessoas do mundo consumissem como os estadunidenses ou os japoneses. ( )
- c) Os países desenvolvidos relacionam o crescimento econômico à promoção do bem-estar social. ( )
- d) O conjunto dos países desenvolvidos é homogêneo, pois todos mantêm níveis de tecnologia semelhantes, principalmente no ramo de informática. ( )
- e) Nos países desenvolvidos há uma grande desigualdade na distribuição de renda entre a população. ( )
-

6. Analise a tabela a seguir e responda às questões.

<b>Países</b>	<b>Taxa de mortalidade infantil (por mil)</b>	<b>Expectativa de vida (em anos)</b>
Chade	124	50
Somália	100	52
Moçambique	78	50
Índia	48	66
China	20	74
Brasil	19	74
México	14	77
Estados Unidos	6	79
Áustria	4	81
França	3	82

Disponível em: <[www.un.org/esa/population/publications/wmchart2011/wmchart2011.pdf](http://www.un.org/esa/population/publications/wmchart2011/wmchart2011.pdf)>.

Acesso em: 4 jan. 2012. Adaptado.

a) Considerando os dados apresentados, quais são os países da tabela com condições de vida mais favoráveis? Justifique sua resposta.

---

---

b) A taxa de mortalidade infantil é um bom indicador das condições de vida da população? Justifique.

---

---

---

c) Compare as taxas de mortalidade infantil do Chade (África) e da França (Europa).

---

---

---

---

7. Após o término da Segunda Grande Guerra, as grandes empresas dos países desenvolvidos precisavam expandir o seu mercado consumidor e iniciaram um processo de instalação de filiais fabris em alguns países subdesenvolvidos.

a) Quais países foram escolhidos para receber essas filiais? Por quê?

---

---

---

---

---

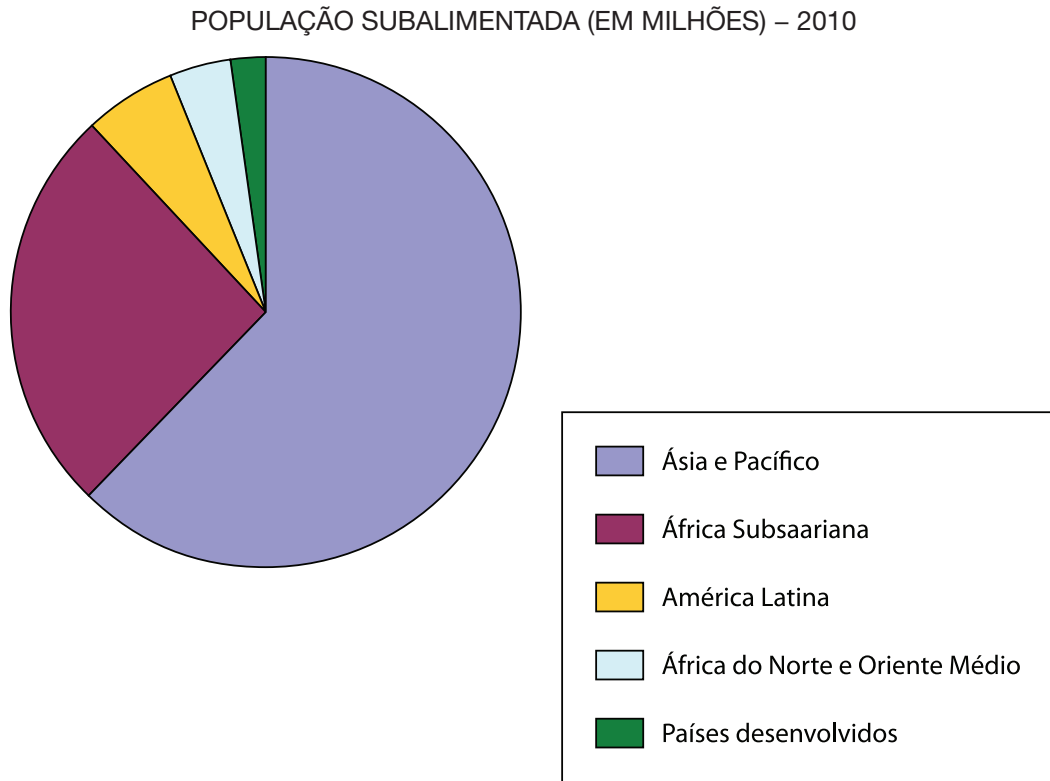
---

b) Como esses países passaram a ser chamados?

---

---

8. Em 2010, 925 milhões de pessoas eram subalimentadas. Analise o gráfico que apresenta a distribuição dessas pessoas no mundo.



Disponível em: <[www.fao.org/docrep/013/i1683f/i1683f02.pdf](http://www.fao.org/docrep/013/i1683f/i1683f02.pdf)>. Acesso em: 3 jan. 2012. Adaptado.

a) Quais são as regiões do mundo que apresentam maior quantidade de pessoas com problemas de subalimentação?

---

---

b) Cite alguns fatores que explicam a existência de pessoas subalimentadas.

---

---

---



**9.** Preencha as lacunas corretamente.

- a) Principalmente no final do século XIX, os europeus desenvolveram um novo processo de colonização denominado \_\_\_\_\_ . As áreas escolhidas para essa nova colonização foram: \_\_\_\_\_ e \_\_\_\_\_ .
- b) Muitos dos atuais países subdesenvolvidos foram, no passado, \_\_\_\_\_ dominadas pelas metrópoles europeias.
- c) Os países subdesenvolvidos apresentam \_\_\_\_\_ índices de analfabetismo, \_\_\_\_\_ taxas de natalidade e mortalidade e \_\_\_\_\_ expectativa de vida.

**10.** Atualmente fala-se de uma Nova Divisão Internacional do Trabalho. Explique como se caracteriza esse fenômeno.

---

---

---

---

---

---

---

---

---

---

---

---

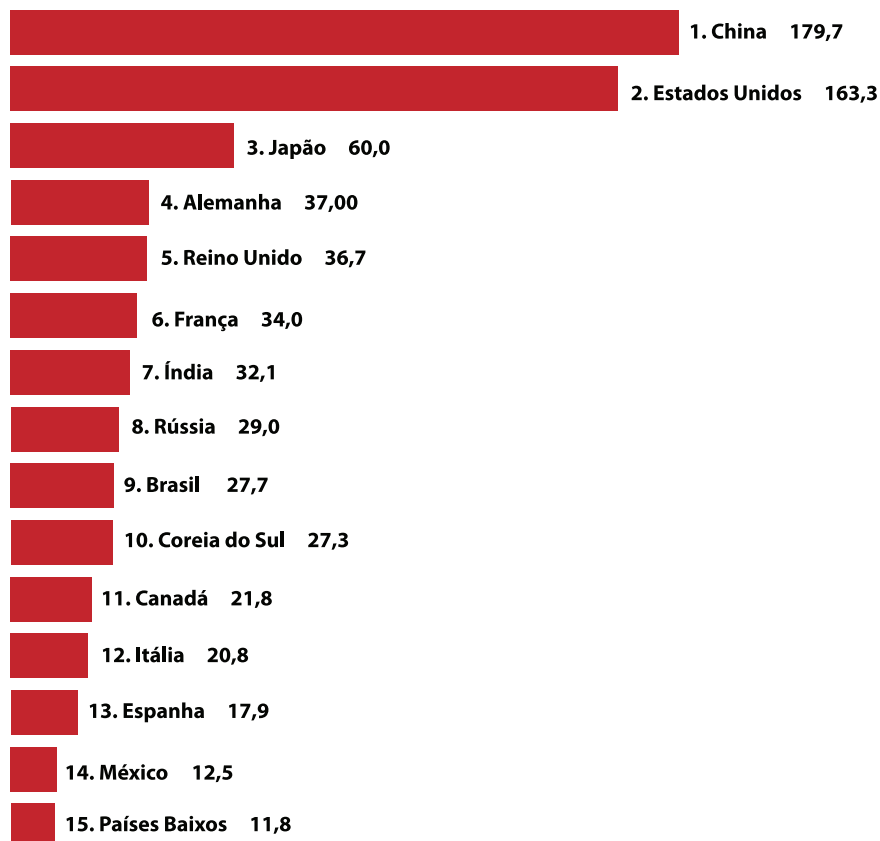
---

---

CÓPIA AUTORIZADA.

11. Analise o gráfico e responda à questão.

PAÍSES COM MAIOR NÚMERO DE USUÁRIOS DA INTERNET — 2008



Disponível em: <<http://opendata.socrata.com/Business/Top-15-Internet-User-Countries-Worldwide/r8qb-4h8i>>. Acesso em: 6 fev. 2012. Adaptado.

a) Dos quinze países mostrados no gráfico, quais são emergentes?

---

---

---

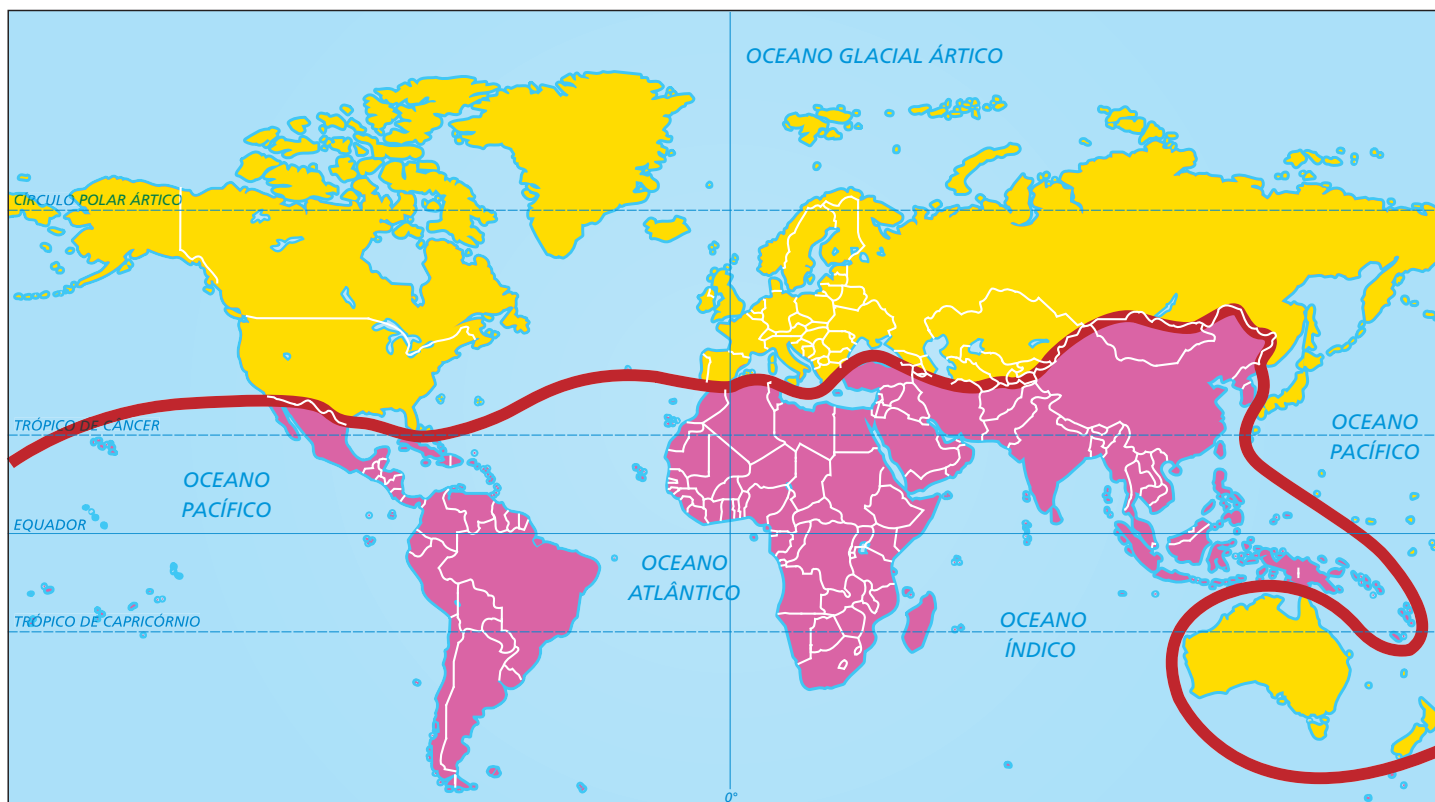
b) Entre os países mostrados no gráfico, quais apresentam maiores investimentos em pesquisa e em desenvolvimento tecnológico?

---

---

---

12. Observe o mapa.



CÓPIA AUTORIZADA.

Fonte: Elaborado com base em MARTINELLI, Marcello. *Atlas geográfico: natureza e espaço da sociedade*. São Paulo: Editora do Brasil, 2003. p. 77.

a) Qual foi o principal critério utilizado para explicar a regionalização do mundo em Norte-Sul?

---

---

---

b) É possível afirmar que os países do Sul são homogêneos?

---

---

---

c) A divisão entre “países do Norte” e “países do Sul” correspondem à divisão dos hemisférios a partir da linha do Equador? Explique.

---

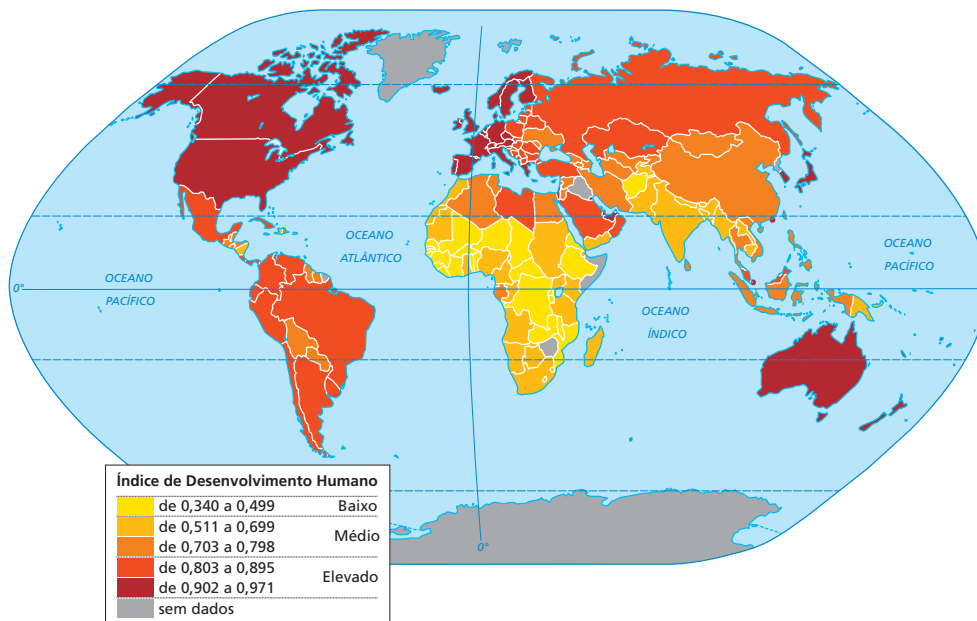
---

---

**13. Complete as lacunas:**

- a) Os países do Norte concentram \_\_\_\_\_ % da população mundial e \_\_\_\_\_ % da produção econômica e da renda global.
- b) Na regionalização Norte-Sul, grande parte do continente asiático (exceto o Japão) faz parte do Sul, assim como toda a \_\_\_\_\_ e \_\_\_\_\_ .
- c) A regionalização Norte-Sul surgiu após o fim da \_\_\_\_\_ que existia durante a Guerra Fria e veio substituir a antiga divisão em três mundos, que perdeu o significado com o colapso do \_\_\_\_\_ .

**14. Analise o mapa e responda à questão.**



Fontes: FERREIRA, Graça M. L. *Atlas geográfico: espaço mundial*. 3. ed. São Paulo: Moderna, 2010. p. 36. *Human Development Reports. Statistics*. Disponível em: <<http://hdr.undp.org/en/statistics>>. Acesso em: 3 fev. 2012.

A respeito da distribuição dos Índices de Desenvolvimento Humano (IDH) no mundo, marque **V** nas alternativas verdadeiras e **F** nas falsas.

- a) A América Anglo-Saxônica e a Europa Ocidental concentram o maior número de países com os mais elevados IDHs. ( )
- b) A maior parte da América Latina apresenta IDHs baixos. ( )
- c) A África concentra o maior número de países com IDHs baixos. ( )
- d) Há relação entre a distribuição dos IDHs no mundo e a divisão Norte-Sul, pois os países do Norte concentram os mais elevados IDHs. ( )

**15. Reflita sobre o texto a seguir e responda às questões.**

A expectativa de vida no Níger é de 50 anos, cerca de 30 a menos que na Noruega, segundo o índice IDH. Em relação à renda *per capita*, a da Noruega é 85 vezes superior à do Níger.

Disponível em: <[www.estadao.com.br/noticias/internacional,onunoruega-e-o-melhor-lugar-do-mundo-para-viver-niger-e-o-pior,446046,0.htm](http://www.estadao.com.br/noticias/internacional,onunoruega-e-o-melhor-lugar-do-mundo-para-viver-niger-e-o-pior,446046,0.htm)>. Acesso em: 5 jan. 2012.

- a) Quais são os indicadores utilizados para compor o IDH?

---

---

- b) Considerando os dados apresentados no texto, como você classificaria o IDH da Noruega e do Níger?

---

---

- c) O IDH da Noruega e do Níger refletem a realidade desses países?

---

---