

Sugestões de avaliação

Geografia
6º ano – Unidade 1



a) Qual é o tipo de paisagem descrita? Extraia do texto elementos que justifiquem sua resposta.

b) Como foi formada a paisagem descrita?

3. Observe a paisagem a seguir.



R-P/KING

Área desmatada por meio da queimada na Floresta Amazônica, no estado do Acre, em 2008.

a) Qual foi a ação antrópica observada na paisagem?

b) Quais são as consequências dessa ação?

4. Comente os diferentes tipos de exploração do solo e as consequências de cada um.

5. Observe a imagem.



Plataforma de petróleo na costa de Long Beach, nos Estados Unidos, em 2010.

Escreva uma legenda para a imagem utilizando as seguintes palavras:

paisagem ação humana instalação transformada
oceanos plataformas de exploração de petróleo

6. Leia o texto a seguir e faça o que se pede.

A Amazônia está mudando

Considerada o maior reduto de vida no planeta, a Amazônia está mudando. Essa mudança na paisagem amazônica vem ocorrendo, em ritmo crescente, nos últimos 50 anos. Qualquer pessoa que sobrevoasse a Amazônia nos anos 50 veria a paisagem como uma

floresta contínua, com algumas clareiras nas margens dos rios e nas vizinhanças das principais cidades. Hoje, um voo por certas áreas da Amazônia brasileira, principalmente em suas partes nordeste e sul, mostrará imensas manchas provocadas pelo desmatamento (...).

Tal imagem causa desolação a muitos, mas é motivo de orgulho para outros. Os desolados pensam na floresta perdida, nas milhares de espécies extintas (muitas antes de serem conhecidas), no imenso patrimônio biológico e evolutivo desperdiçado (e, com ele, as oportunidades perdidas de novos conhecimentos, produtos e negócios). Pensam ainda no povo da floresta desprovido do seu modo de vida, sem oportunidade de materializar sua cultura, suas crenças e sua arte. Já os orgulhosos argumentam que isso significa progresso e vislumbram a Amazônia finalmente inserida no processo nacional de desenvolvimento, produzindo grãos, exportando minérios para o mundo e energia para o país.

Fonte: *Ciência Hoje*, vol. 40, n. 239, p. 39, jul. 2007. Disponível em: <<http://cienciahoje.uol.com.br/revista-ch/revista-ch-2007/239/a-amazonia-esta-mudando>>. Acesso em: 27 dez. 2011.

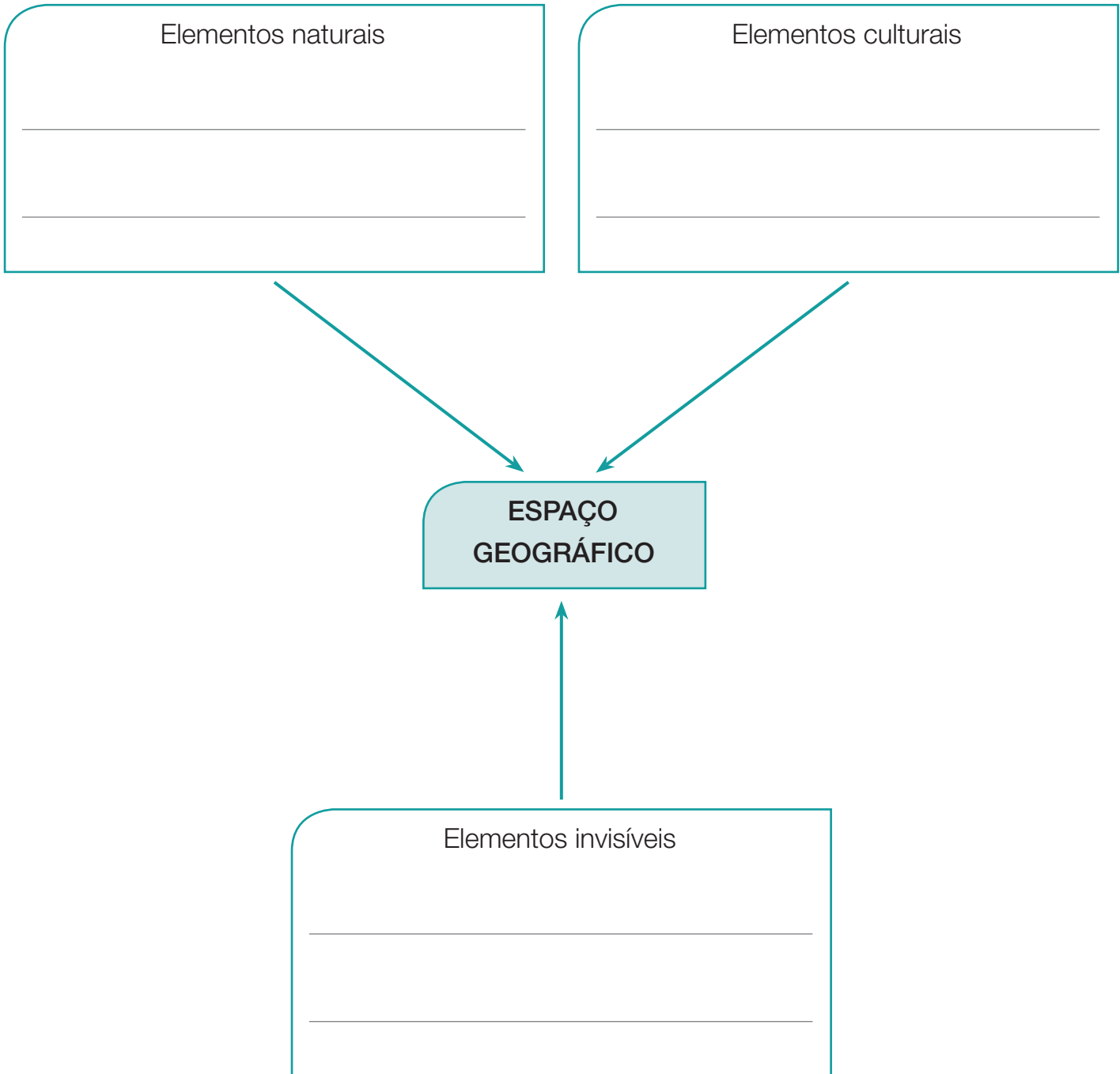
a) O que tem ocorrido com a paisagem amazônica? Por quê?

b) A transformação da paisagem amazônica tem suscitado diferentes opiniões. Complete a tabela a seguir:

O que causa desolação	O que causa orgulho
<hr/>	<hr/>
<hr/>	<hr/>
<hr/>	<hr/>
<hr/>	<hr/>

c) Qual é sua opinião sobre a transformação da paisagem amazônica?

7. Complete o esquema com exemplos:



10. Analise as imagens que mostram a cidade do Guarujá (SP) em dois momentos distintos.



Antigo núcleo urbano no Guarujá, na praia das Pitangueiras, no estado de São Paulo, em 1915.



Vista aérea da praia das Pitangueiras no Guarujá, São Paulo, 2008.

CÓPIA AUTORIZADA.

a) O que aconteceu com o espaço geográfico do Guarujá entre 1915 e 2008?

b) Com base nas imagens, relacione espaço geográfico com trabalho humano.

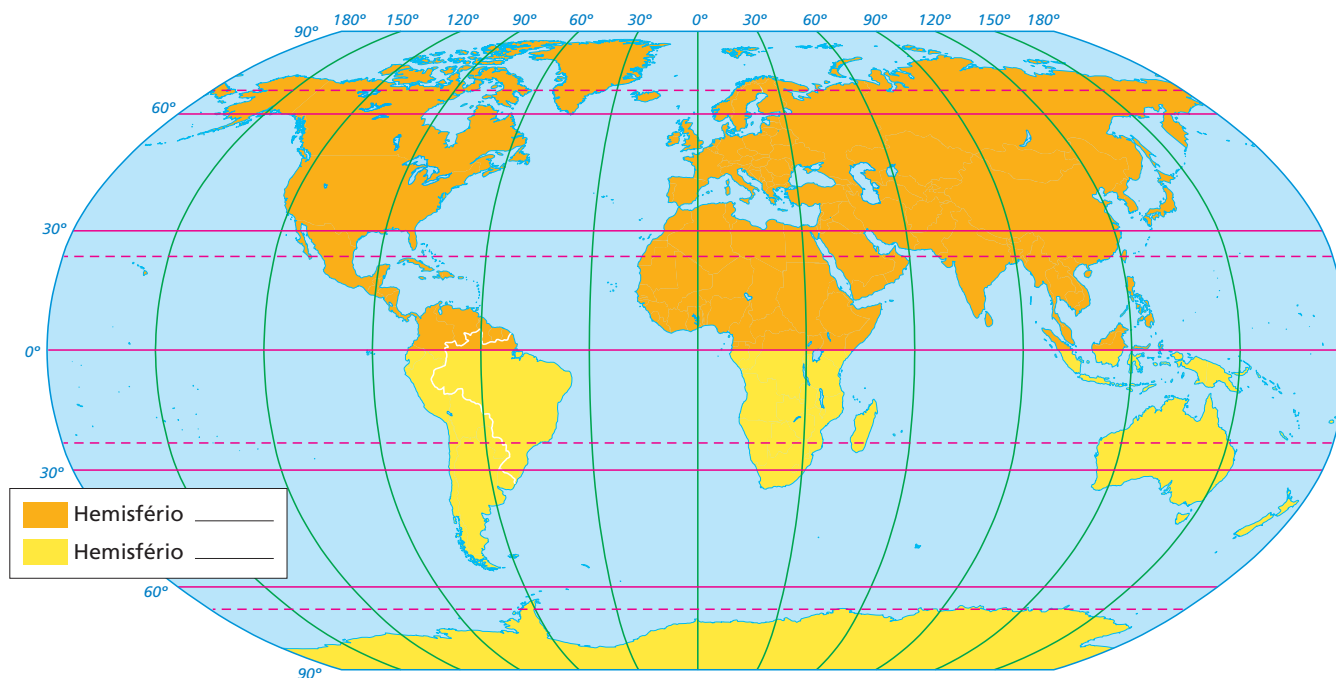
CÓPIA AUTORIZADA.

11. Associe:

- (A) Bússola
- (B) GPS
- (C) Sol

- () Os pontos de orientação, chamados pontos cardeais, foram determinados com base na observação deste meio de orientação.
- () Instrumento de orientação semelhante a um relógio. Possui uma agulha imantada que sempre aponta para o norte.
- () Meio moderno de orientação, que permite localizar com precisão um objeto em qualquer lugar da superfície da Terra.

12. Complete a figura de acordo com o que é solicitado em cada item.



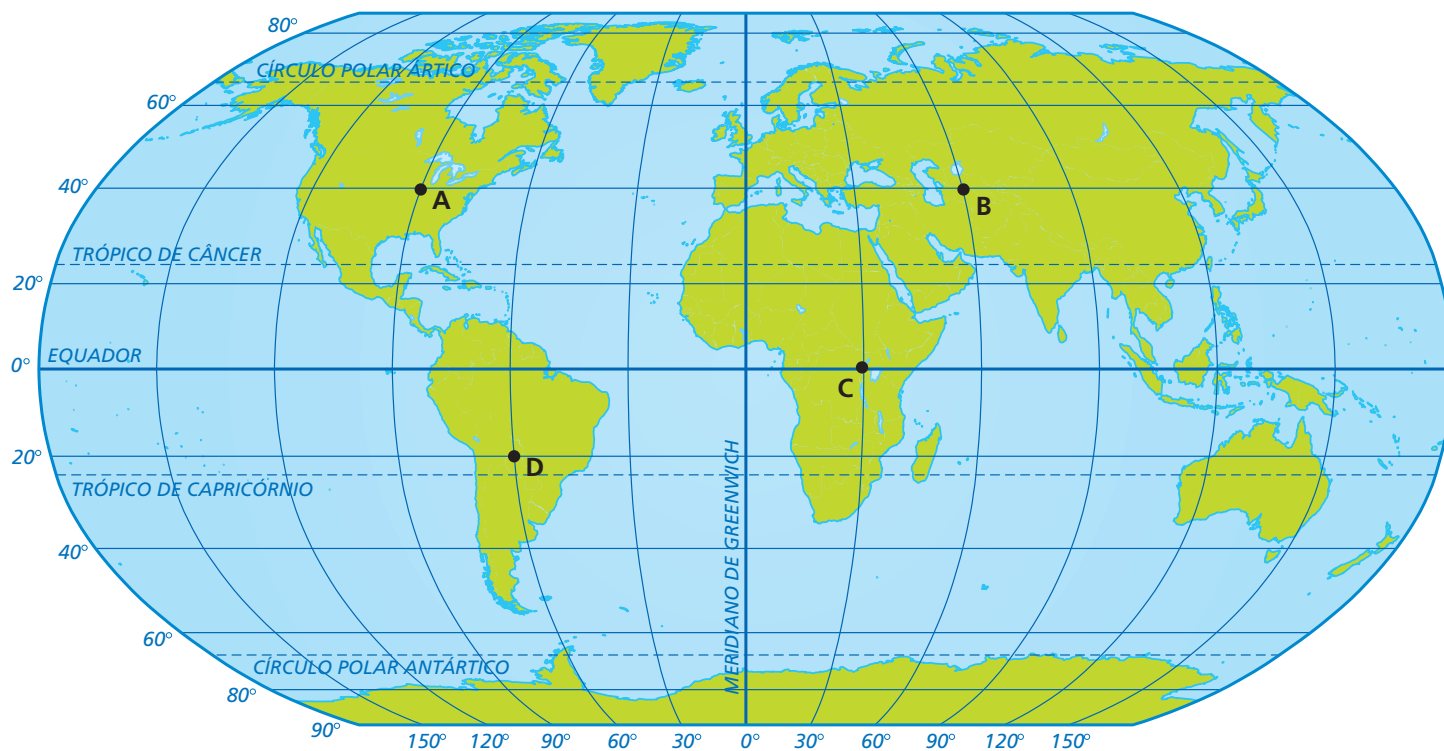
Fonte: elaborado com base em *Atlas geográfico escolar*. 5. ed. Rio de Janeiro: IBGE, 2009. p. 34.

- Escreva nos locais corretos os nomes dos principais paralelos: Equador, Trópico de Capricórnio, Trópico de Câncer, Círculo Polar Ártico e Círculo Polar Antártico.
- Escreva no local correto o nome do principal meridiano: Meridiano de Greenwich.
- Complete a legenda indicando os hemisférios Norte e Sul.

13. Complete as lacunas:

- A distância em graus de qualquer ponto na superfície terrestre em relação à linha do Equador denomina-se _____, que varia entre 0° , na linha _____, e 90° , em cada um dos polos.
- A distância em graus de qualquer ponto na superfície terrestre em relação ao Meridiano de Greenwich denomina-se _____, que varia entre 0° , no Meridiano de Greenwich, e _____, para leste ou oeste dessa linha.

14. Analise o planisfério e complete a tabela com os pontos **A**, **B**, **C** e **D**.



Fonte: elaborado com base em *Atlas geográfico escolar*. 5. ed. Rio de Janeiro: IBGE, 2009. p. 34.

CÓPIA AUTORIZADA.

	Latitude	Longitude
()	0°	30° Leste
()	40° Norte	60° Leste
()	20° Sul	60° Oeste
()	40° Norte	90° Oeste

15. Observe a localização dos estados brasileiros no mapa.



Fonte: Atlas geográfico escolar. 5. ed. Rio de Janeiro: IBGE, 2009. p. 94.

Cite o nome do estado brasileiro que apresenta:

a) a maior longitude oeste.

b) a maior latitude norte.

c) a maior latitude sul.
