



# Proposta de acompanhamento da aprendizagem

## Avaliação de Geografia: 4º bimestre

Nome do(a) aluno(a): \_\_\_\_\_

Turma: \_\_\_\_\_

Data: \_\_\_\_\_

1. Observe a ilustração a seguir.



Casa Paulistana

Relacione cada uma das potências (Japão, Índia e Rússia) representadas na ilustração com a influência geopolítica europeia.

---

---

---

---

---

2. Os chamados Tigres Asiáticos (Coreia do Sul, Taiwan, Hong Kong e Singapura) receberam essa denominação por causa do rápido crescimento econômico pelo qual passaram. Esse crescimento é explicado, entre outros fatores por:

- a) investimentos da Europa Ocidental, motivada a exercer influência geopolítica na região.
- b) um tratado feito com os Estados Unidos durante o período da Guerra Fria, em que os quatro tigres se comprometiam a não se tornarem socialistas.
- c) influência chinesa, cujo grande crescimento econômico extrapolou as fronteiras, chegando aos tigres.
- d) instalação de indústrias japonesas, atraídas pela mão de obra disciplinada e barata.

3. A história da Coreia é marcada por interesses geopolíticos externos em seu território. Explique a afirmação.

---

---

---

---

---

4. A Coreia do Sul é considerada por alguns analistas econômicos como o primeiro país que deixou de ser emergente e se tornou desenvolvido.



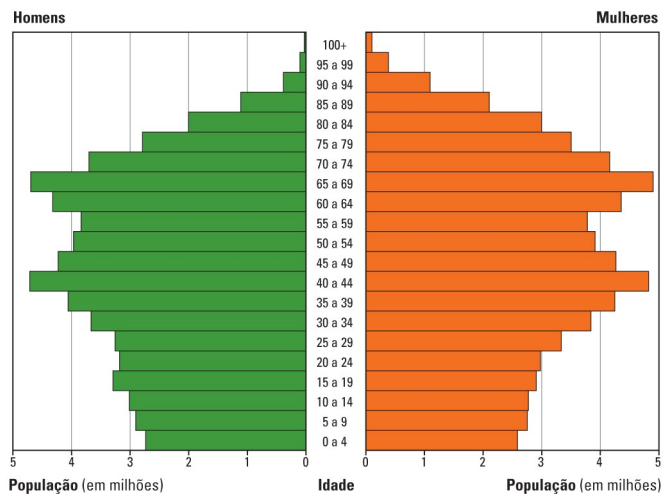
Teerachat paibung/Shutterstock.com

### Bairro de Gangnam, em Seul, Coreia do Sul, em 2015.

Essa corrente de estudiosos avalia que a Coreia do Sul se tornou desenvolvida porque:

- a) o país passou a desenvolver tecnologia própria, com grandes multinacionais, e a exercer influência cultural em outros lugares do mundo.
  - b) o país atingiu um Índice de Desenvolvimento Humano (IDH) muito alto, fato restrito a países desenvolvidos.
  - c) o país situa-se entre as dez maiores economias da Terra.
  - d) o país lidera o bloco econômico dos Tigres Asiáticos, ampliando sua influência regional.
- 5.** Analise a pirâmide etária do Japão e explique o problema social relacionado à composição da população que o país enfrenta.

### Japão – Pirâmide etária (2015)



Dacosta Mapas

Fonte: Population Pyramid. Disponível em: <[www.populationpyramid.net/pt/jap%C3%A3o/2017](http://www.populationpyramid.net/pt/jap%C3%A3o/2017)>. Acesso em: 16 nov. 2018.

---

---

---

---

6. Analise o mapa a seguir.

### China – Zonas Econômicas Especiais



Allmaps

Fonte: CHARLIER, Jacques (Org.). **Atlas du 21<sup>e</sup> siècle**: nouvelle édition 2013. Paris: Nathan, 2012. p. 113.

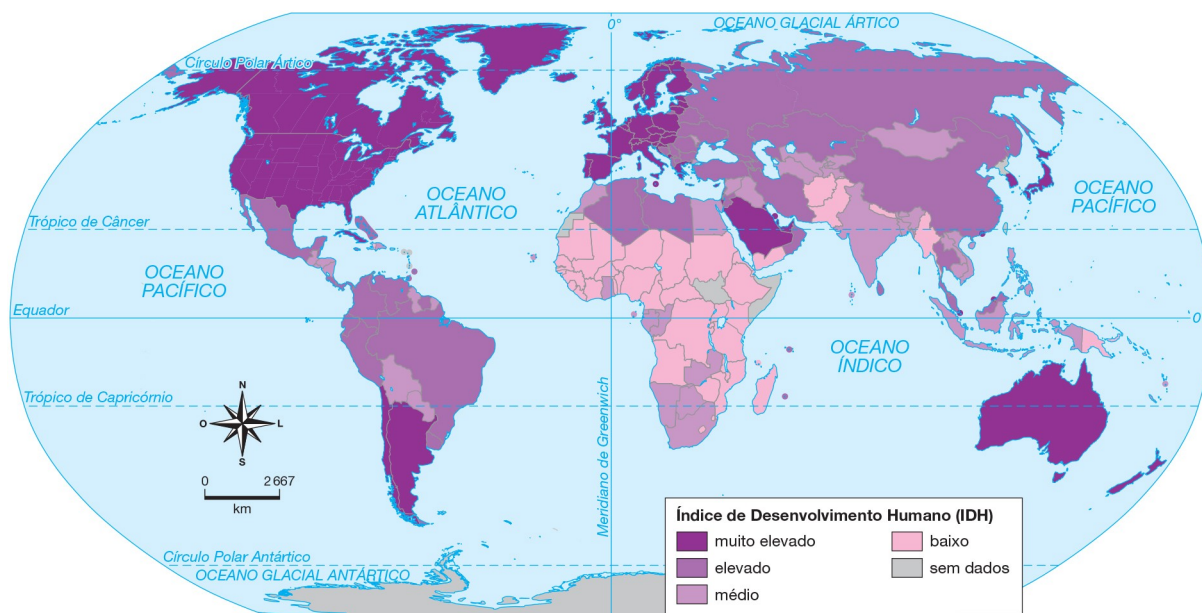
No mapa, estão localizadas as principais Zonas Econômicas Especiais (ZEEs) da China.

Sobre elas, é **correto** afirmar que:

- a) localizam-se no litoral por causa da forte dependência de insumos externos, já que a China é pobre em matéria-prima.
- b) foram criadas com o objetivo de atrair o capital estrangeiro, diminuindo seus impostos e facilitando a entrada e saída de insumos e produtos.
- c) fazem parte da estratégia socialista de expandir as indústrias, do país.
- d) são áreas densamente industrializadas, que se localizam no litoral para utilizar a energia das marés (maremotriz).

7. Observe o mapa a seguir.

### Mundo – Índice de Desenvolvimento Humano (2017)



Allmaps

Fonte: PNUD. **Relatório do Desenvolvimento Humano 2017**. Disponível em: <[http://hdr.undp.org/sites/default/files/2018\\_human\\_development\\_statistical\\_update.pdf](http://hdr.undp.org/sites/default/files/2018_human_development_statistical_update.pdf)>. Acesso em: 22 out. 2018.

Em 2010, o PIB (Produto Interno Bruto) da China ultrapassou o do Japão, tornando-a a segunda maior economia do mundo. Economistas afirmam que em poucos anos a China ultrapassará também os Estados Unidos. No entanto, todo esse vigor econômico, em geral, não se traduz nos índices sociais. Explique essa afirmação analisando o mapa acima.

---

---

---

---

**8.** Leia o texto a seguir.

[...] A existência de milhares de pequenos agricultores tem sido ameaçada pela intensa privatização no país, que permite 100% de investimento estrangeiro direto no setor agrícola e no varejo indiano, além da promoção de contratos agroindustriais, em geral por preços predeterminados. Só no último ano, as perdas registradas por esses pequenos produtores indianos chegaram a assustadores US\$ 3,88 trilhões. [...]

PRASANTH, R. Pequenos agricultores lideram resistência contra avanço neoliberal na Índia. **Brasil de fato**. Disponível em: <[www.brasildefato.com.br/2018/06/18/pequenos-agricultores-lideram-resistencia-contra-avanco-neoliberal-na-india/](http://www.brasildefato.com.br/2018/06/18/pequenos-agricultores-lideram-resistencia-contra-avanco-neoliberal-na-india/)> Acesso em: 13 nov. 2018.

O texto permite reconhecer dois modelos agrícolas diferentes que coexistem na Índia.

Explique cada um deles.

---

---

---

---

Habilidade trabalhada: (EF09GE13) Analisar a importância da produção agropecuária na sociedade urbano-industrial ante o problema da desigualdade mundial de acesso aos recursos alimentares e à matéria-prima.

Resposta: Com uma enorme população, grande parte dos trabalhadores indianos vive no campo, onde se dedicam a uma produção com técnicas tradicionais voltada para o mercado interno (agricultura familiar). No entanto, desde o período colonial, sucessivos governos investem mais em grandes empresas produtoras rurais, com produção voltada à indústria e ao mercado externo (grande agricultura comercial).

9. O mapa a seguir evidencia o uso do solo na Austrália. Na legenda, lê-se que a área em amarelo apresenta limitações para o uso agrícola. Explique por que isso ocorre.

### Austrália – Uso do solo



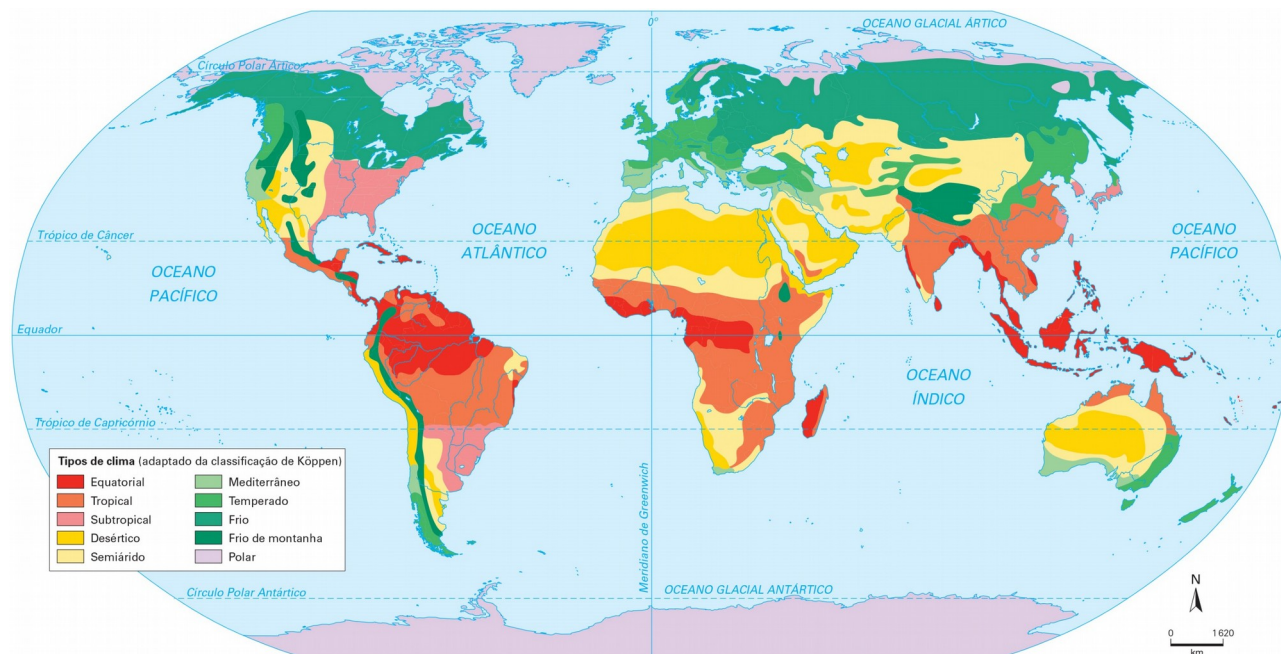
Allmaps

Fonte: CALDINI, Vera; ÍSOLA, Leda. **Atlas Geográfico Saraiva**. São Paulo: Saraiva, 2013. p. 157.

10. Observe o mapa a seguir.

### Mundo – Clima





Vespúcio Cartografia

Fonte: GIRARDI, Gisele; ROSA, Jussara Vaz. **Atlas geográfico do estudante**. São Paulo: FTD, 2016. p. 160

Assinale a alternativa que relaciona corretamente os climas da Ásia e da Oceania.

- a) Pela proximidade, o clima da Indonésia também ocorre no norte da Austrália.
- b) O tipo climático do sudoeste da Austrália predomina no litoral da China.
- c) O clima da Nova Zelândia assemelha-se ao clima do norte do Japão.
- d) As elevadas médias de temperatura fazem com que o clima do Oriente Médio seja o mesmo da Melanésia.