



Proposta de acompanhamento da aprendizagem

Avaliação de Geografia: 1º bimestre

Nome do(a) aluno(a): _____

Turma: _____ Data: _____

1. Com base nas informações da tabela abaixo, compare os dados em relação à migração, desemprego e gênero nos países da América Latina. Em seguida, escreva um pequeno texto.

Taxa de desemprego (países selecionados): taxa de desemprego de nativos e imigrantes por sexo, 2013

País	Nativos			Imigrantes		
	Total	Homens	Mulheres	Total	Homens	Mulheres
Argentina	7,2	6,2	8,5	3,7	2,7	4,9
Bolívia	2,6	2,1	3,2	1,0	0,4	2,0
Brasil	6,5	4,9	8,5	3,8	3,6	4,3
Chile	7,1	6,3	8,3	4,1	4,1	4,1
Costa Rica	8,3	7,1	10,2	10,2	6,2	15,6
Equador	4,1	3,3	5,4	4,8	5,6	3,6
Paraguai	5,1	4,5	5,8	3,4	3,9	3,0
República Dominicana	7,1	5,1	10,4	6,1	4,4	11,8
Uruguai	6,5	5,1	8,2	7,2	5,1	9,7

Fonte: CEPAL e OIT sobre a base de dados BADEHOG apud CEPAL, 2017; OIT. CEPAL/OIT Coyuntura Laboral em América Latina y el Caribe, mayo 2017, n. 16. La inmigración laboral en América Latina.

2. Se a América, em outros momentos, foi uma região de atração migratória, a partir da segunda metade do século XX essa tendência se reverteu. Desde o “descobrimento do Novo Mundo” até o começo do século XXI, o continente recebeu diversos grupos migratórios, essencialmente do Velho Mundo. Hoje o movimento espacial é no sentido inverso.

Descreva as fases migratórias da América desde a colonização até o século XXI, explicando de que forma o continente passou de polo de atração para polo de expulsão.

3. Leia o trecho a seguir escrito pelo geógrafo alemão Friedrich Ratzel.

Todo Estado é uma parcela da humanidade e uma porção do espaço terrestre. As leis particulares da propagação da vida humana sobre a superfície da Terra determinam também a emergência dos Estados. Nunca se viu a formação de Estados nas zonas polares ou nos desertos, e eles são escassos nas regiões pouco povoadas dos trópicos, nas áreas florestais e nas altas montanhas [...].

RATZEL, Friedrich. **Geografia política**. 1897.

Explique a afirmação de Ratzel: “Nunca se viu a formação de Estados nas zonas polares...”

4. Analise o texto a seguir.

[Os curdos são] descendentes de tribos nômades que viviam há 3 mil anos nas montanhas do que são hoje Turquia, Irã e Iraque. Apesar de ocuparem por séculos a mesma região, nunca tiveram um país, mantendo-se sob domínio político e militar de outros povos.

NAVARRO, Roberto. Qual é o maior povo sem país? **Superinteressante**. Disponível em: <<https://super.abril.com.br/mundo-estranho/qual-e-o-maior-povo-sem-pais/>>. Acesso em: 1º nov. 2018.

Pode-se afirmar que:

- a) apesar de não terem um país, os curdos se caracterizam por formar um Estado moderno e soberano.
- b) os curdos não têm um país porque não formam um povo único.
- c) os curdos são um exemplo de nação que não possui território próprio.
- d) os sucessivos governos curdos optaram por não formar um país por não haver identidade nacional.

5. Leia o texto a seguir.

[...] No seu conjunto, e vista no plano mundial e internacional, a colonização dos trópicos toma o aspecto de uma vasta empresa comercial, mais completa que a antiga feitoria, mas sempre com o mesmo caráter que ela, destinada a explorar os recursos naturais de um território virgem em proveito do comércio europeu. [...]

PRADO JÚNIOR, Caio. **Formação do Brasil contemporâneo**. 21. ed. São Paulo: Brasiliense, 1989, p. 31.

Sobre a colonização na América Latina é correto afirmar que:

- a) a colonização foi de povoamento, buscando estabelecer a população europeia em territórios latino-americanos.

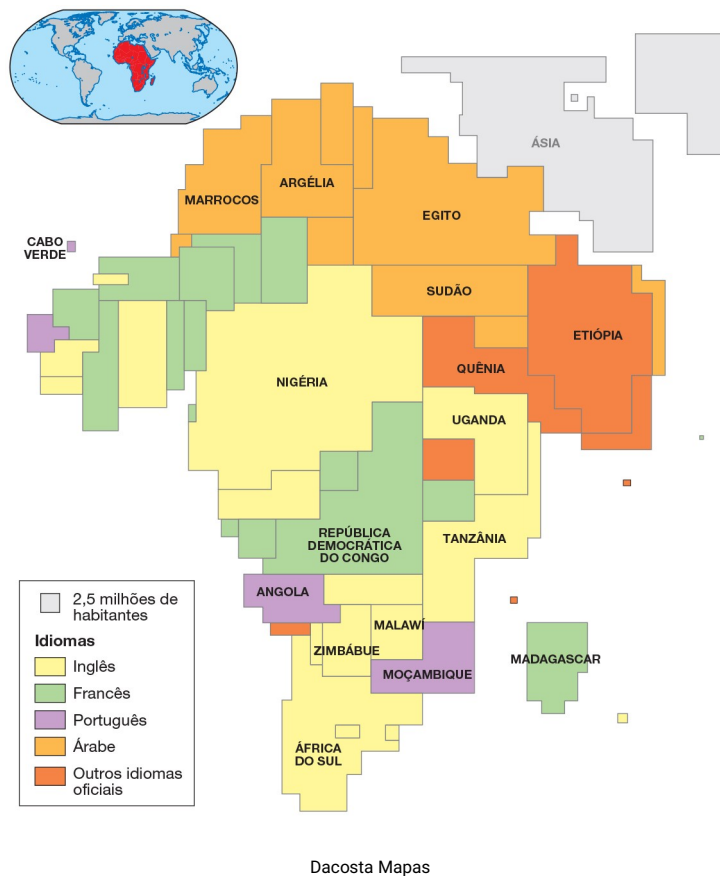
- b) a colonização foi de exploração, possibilitando o desenvolvimento dos países latino-americanos na medida em que estabeleciam relações comerciais com a Europa.
- c) as condições de desenvolvimento atual dos países latino-americanos estão fortemente vinculadas ao caráter exploratório e de dependência da colonização executada pelos países europeus.
- d) a divisão internacional do trabalho, à época, separava colônias de metrópoles, e hoje estabelece países desenvolvidos e aqueles em vias de atingir o desenvolvimento alcançado por suas antigas metrópoles.

6. A relação de interesses dos Estados Unidos com os BRICS, no mercado global, pode ser vista como:

- a) positiva, já que se trata de uma aliança de interesse estadunidense, uma vez que o país se tornou membro organismo de integração internacional em 2016 e deve presidir o grupo.
- b) preocupante, já que a China é o principal rival internacional em disputas pela hegemonia econômica em regiões estratégicas, como América Latina e África.
- c) irrelevante, pois os Estados Unidos dominam o comércio internacional em todos os continentes e não se sentem ameaçados por essas alianças.
- d) negativa, uma vez que os Estados Unidos se encontram na periferia do capitalismo globalizado e não pretendem participar de blocos pelo mundo.

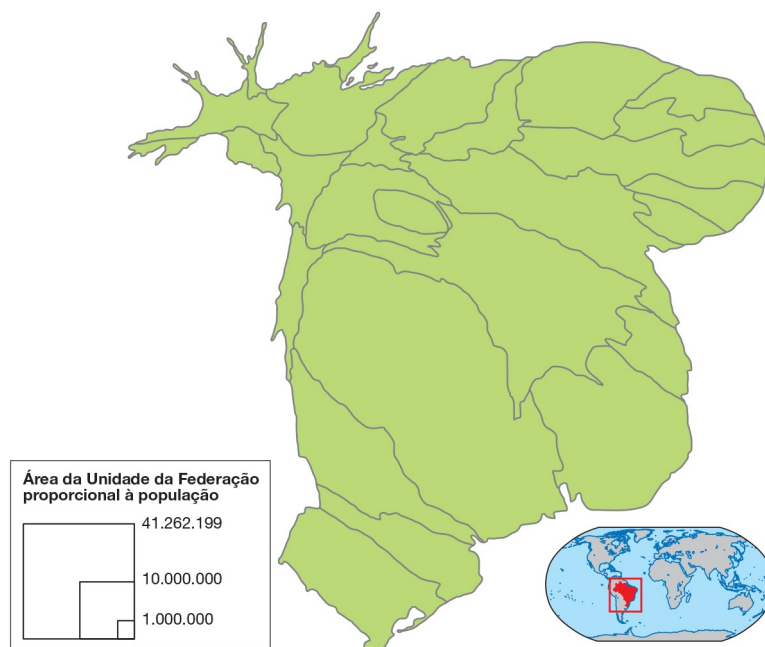
7. Relacione o surgimento dos BRICS à economia de mercado no contexto da globalização.

8. Relacione o cartograma a seguir com o período colonial da África.



Fonte: FERREIRA, Graça Maria Lemos. **Atlas geográfico: espaço mundial**. 4. ed. São Paulo: Moderna, 2013. p. 14.

9. Observe a imagem.



Dacosta Mapas

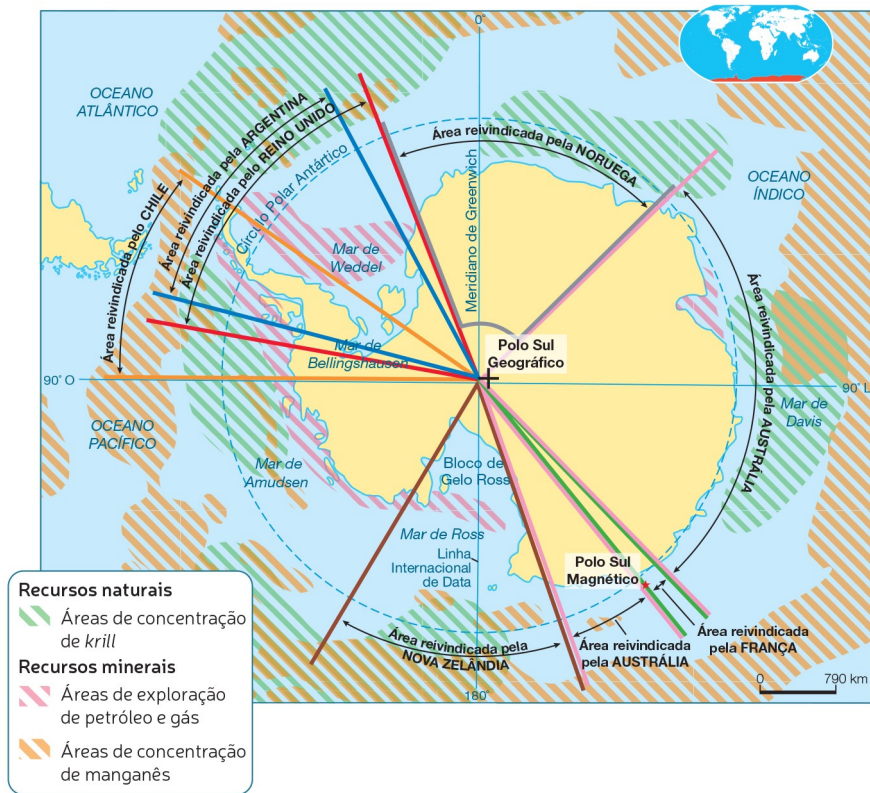
Fonte: IBGE. Sinopse do Censo IBGE 2010. In: FONSECA, Fernanda Padovesi; OLIVA, Jaime. **Cartografia**. São Paulo: Melhoramentos, 2013. p. 78.

A anamorfose se refere a que característica dos estados brasileiros?

- a) Desenvolvimento econômico.
- b) Concentração de população.
- c) Presença de florestas.
- d) Oferta de recursos hídricos.

10. Leia com atenção o mapa a seguir.

Antártida



E.Cavalcante

Fontes: PERNETTA, John. **Atlas of the oceans**. Rand McNally: United States, 1994. p. 160 e 161; **ATLAS National Geographic: Oceania, Polos e Oceanos**. São Paulo: Abril, 2008. 11 v. p. 82.

Relacione o mapa à criação do Tratado da Antártida.
